



**CONCURSO PÚBLICO PARA PROVIMENTO DE
CARGOS EFETIVOS DO QUADRO DE PESSOAL
DA CÂMARA MUNICIPAL DE CODÓ/MA**
EDITAL Nº 001/2006, de 26 DE DEZEMBRO de 2006

PROVA OBJETIVA

TÉCNICO LEGISLATIVO

INSTRUÇÕES

- Verifique se este caderno contém 50 questões, sendo 15 de Língua Portuguesa, 10 de Matemática, 05 de Noções de Informática e 20 de Conhecimentos Específicos.
- Verifique na Folha de Respostas se o seu nome e número do documento de identificação estão corretos.
- Indique na Folha de Respostas a cor da capa de seu Caderno de Provas.
- Em cada questão, você deve assinalar somente uma das alternativas.
- Será anulada a questão que contiver emenda, rasura ou, ainda, a que apresentar mais de uma alternativa assinalada na Folha de Respostas.
- Ao marcar a alternativa correta na Folha de Respostas, use caneta esferográfica de tinta preta, ponta grossa.
- Ao final da prova, devolva ao fiscal de sala a Folha de Respostas assinada no local indicado.
- Os 2 (dois) últimos candidatos de cada sala só poderão ser liberados juntos.

CERTO					ERRADO						
	A	B	C	D	E		A	B	C	D	E
1	<input checked="" type="radio"/>	<input type="radio"/>	<input type="radio"/>	<input type="radio"/>	<input type="radio"/>	21	<input checked="" type="radio"/>	<input type="radio"/>	<input type="radio"/>	<input type="radio"/>	<input type="radio"/>
2	<input type="radio"/>	<input checked="" type="radio"/>	<input type="radio"/>	<input type="radio"/>	<input type="radio"/>	22	<input type="radio"/>	<input checked="" type="radio"/>	<input type="radio"/>	<input type="radio"/>	<input type="radio"/>
3	<input type="radio"/>	<input type="radio"/>	<input checked="" type="radio"/>	<input type="radio"/>	<input type="radio"/>	23	<input type="radio"/>	<input checked="" type="radio"/>	<input type="radio"/>	<input type="radio"/>	<input type="radio"/>
4	<input type="radio"/>	<input type="radio"/>	<input type="radio"/>	<input checked="" type="radio"/>	<input type="radio"/>	24	<input type="radio"/>	<input checked="" type="radio"/>	<input type="radio"/>	<input type="radio"/>	<input type="radio"/>
5	<input type="radio"/>	<input type="radio"/>	<input type="radio"/>	<input checked="" type="radio"/>	<input type="radio"/>	25	<input type="radio"/>	<input checked="" type="radio"/>	<input type="radio"/>	<input type="radio"/>	<input type="radio"/>
6	<input type="radio"/>	<input type="radio"/>	<input type="radio"/>	<input type="radio"/>	<input checked="" type="radio"/>	26	<input checked="" type="radio"/>	<input type="radio"/>	<input type="radio"/>	<input checked="" type="radio"/>	<input type="radio"/>

PROVA BRANCA

Execução:

F Fundação
Sousândrade
DE APOIO AO DESENVOLVIMENTO DA UFM/PA

Boa prova!

A duração total da prova é de 4 horas. Este tempo inclui a marcação da Folha de Respostas.
Você só poderá levar o Caderno de Provas após transcorridas 02 (duas) horas do início das provas.

NOME _____

INSCRIÇÃO _____

DATA / HORÁRIO _____

Língua Portuguesa

Leia o texto e responda às questões 01, 02 e 03.

O presidente George Walker Bush costuma evocar o pai George Bush, a quem se refere publicamente por *dad*, quando tem questões importantes a tratar. **Quando decidiu invadir o Iraque, explicou que pretendia terminar o serviço iniciado por *dad* – Bush-pai entrou em guerra com Saddam Hussein em 1990, mas ficou no meio do caminho.** Quando anunciou que daria prioridade às negociações da Área de Livre Comércio das Américas, por exemplo, explicou que faria isso porque a ALCA foi uma idéia de *dad*. Contudo, no tema mais relevante para o planeta, a questão do aquecimento global, Bush-filho tem ignorado solenemente as idéias de *dad*. Não se sabe se os dois já conversaram sobre o assunto, nem em que termos. O que se sabe é que em sua passagem pelo poder, Bush-pai demonstrava em público alguma preocupação ecológica. E que foi um dos 176 chefes de Estado que em 1992 participaram da Conferência das Nações Unidas sobre Meio Ambiente e Desenvolvimento Sustentável, a Eco-92.

Rev. ISTO É, nº 1949, 07.03.2007

01

Marque a opção que, mantendo a modalidade escrita da norma padrão, expressa **as mesmas idéias** do trecho sublinhado acima.

- Logo que resolveu invadir o Iraque, esclareceu que intensificava apresentar o serviço iniciado por *dad* – Bush-pai entrou em guerra com Saddam Hussein em 1990, mas saiu da direção.
- Quando resolveu invadir o Iraque, explicou que tentava terminar o serviço iniciado por *dad* – Bush-pai entrou em combate com Saddam Hussein em 1990, contudo ficou no meio do caminho.
- Quando resolveu invadir o Iraque, explicou que tentava acabar o serviço começado por *dad* – Bush-pai entrou em guerra com Saddam Hussein em 1990, já que ficou no meio do caminho.
- Logo que decidiu invadir o Iraque, explicou que pretendia acabar o serviço começado por *dad* – Bush-pai iniciou guerra com Saddam Hussein em 1990, sequer, no entanto, ficou no meio da bravata.
- Assim que resolveu invadir o Iraque, deu a conhecer que pretendia terminar o serviço deslançado por *dad* – Bush-pai entrou em contenda com Saddam Hussein em 1990, porquanto recuou da bravata.

02

Leia:

- “costuma **evocar** o pai George Bush...”
- “Quando anunciou que daria **prioridade** às **negociações**...”
- “...no tema mais **relevante** para o planeta, [...] tem ignorado **solenemente** as idéias de *dad*.”
- “Não se sabe se os dois já conversaram **sobre** o assunto...”

A opção que apresenta, respectivamente, sinônimos das palavras destacadas acima, resguardando o contexto, é:

- I - sugerir
II - destaque, exigências
III - temeroso, instigantemente
IV - a cerca de
- I - evidenciar
II - importância, negociatas
III - essencial, com indiferença
IV - sob
- I - lembrar
II - primazia, discussões
III - importante, formalmente
IV - acerca de
- I - referir
II - proeminência, propostas
III - discutido, pomposamente
IV - de relance
- I - recordar
II - primazia, imposições
III - complicado, vigorosamente
IV - de afogadilho

03

A idéia crítica principal desse parágrafo está contida em:

- “Bush-pai demonstrava em público alguma preocupação ecológica.”
- “Quando decidiu invadir o Iraque, explicou que pretendia terminar o serviço iniciado por *dad* –”
- “Quando anunciou que daria prioridade às negociações da Área de Livre Comércio das Américas,....”
- “Contudo, no tema mais relevante para o planeta, a questão do aquecimento global, Bush-filho tem ignorado solenemente as idéias de *dad*.”
- “E que foi um dos 176 chefes de Estado que em 1992 participaram da Conferência das Nações Unidas sobre Meio Ambiente e Desenvolvimento Sustentável, a Eco-92.”

As questões de **04** a **06** referem-se ao texto abaixo.

ISTO É teve acesso a um documento, esquecido nos arquivos do Itamaraty, que revela um Bush-pai com idéias bastante claras e avançadas sobre a necessidade de os Estados Unidos e das demais nações envolvidas se engajarem num esforço global de redução drástica das emissões de gases causadores do efeito estufa. Trata-se de um comunicado da Casa Branca, assinado por George Bush, no qual ele confirma sua presença na Eco-92 ao então presidente Fernando Collor e ao então secretário-geral da ONU, Boutros Ghali - e aproveita para expor suas idéias sobre meio ambiente. Divulgado em português e inglês, a carta de Bush-pai contém importantes lições para Bush-filho. "Os problemas ambientais de hoje são globais, e cada nação precisa ajudar a solucioná-lo", ensina Bush-pai já nas primeiras linhas. "Durante mais de duas décadas, os Estados Unidos demonstraram como a proteção do meio ambiente e o estímulo do crescimento econômico podem ser conciliados".

Bush-filho acredita no oposto-contraditório. Ele acha que meio ambiente tranca a economia. Há dois anos, quando começou a vigorar o Protocolo de Kioto, 141 países comprometem-se a reduzir as emissões de dióxido de carbono aos níveis de 1990 (hoje já são 180 signatários). **Os EUA sozinhos são responsáveis pela emissão de 25% dos gases poluentes.** Mas Bush-filho qualificou o protocolo de "fundamentalmente equivocado". E não assinou.

Rev. ISTO É, nº 1949, 07.03.2007

04

As revistas, os jornais procuram ter uma feição própria para atrair o seu leitor, conquistando-o não apenas por **aquilo que dizem**, mas, principalmente, **pelo modo como dizem**. A partir dessa reflexão, é possível constatar no texto acima uma forma de alimentar uma possível manipulação, pelo(a)

- estratégia usada na construção de um sentido em que se projeta a oposição sapiência *versus* ignorância.
- objetividade empregada que elimina o mecanismo da intersubjetividade autor/leitor.
- exploração da conduta informação/sem opinião, buscando a neutralidade do texto.
- atitude fragmentária na condução do texto, o que deixa o leitor solto, tentando suprir uma falta: a sua própria por escassez de dados.
- mecanismo de uso de erudição em um ato discursório.

05

Considerando o contexto, é correto afirmar que, no texto,

- o sujeito de **aproveita** em "Boutros Ghali – e aproveita para expor suas idéias sobre meio ambiente" é Boutros Ghali.
- o termo **bastante** em "idéias **bastante** claras e avançadas..." torna-se invariável por se tratar de um pronome indefinido.
- a retomada do termo **George Bush** é feita pelo termo **no qual** em "Trata-se de um comunicado da Casa Branca, assinado por George Bush, no qual ele confirma sua presença na Eco-92...".
- a separação da preposição **de** do artigo **os** em "a necessidade **de os** Estado Unidos e das demais nações envolvidas se engajarem..." é de uso próprio da língua culta.
- a vírgula em "Durante mais de duas décadas, os Estados Unidos demonstraram..." não tem função justificada pela sintaxe da língua padrão.

06

Analise os itens a seguir, considerando o contexto:

- Em "ISTO É teve acesso a um documento,...", registra-se emprego falho de regência nominal.
- Em "**que** revela um Bush-pai com idéias bastante claras e avançadas...", reconhece-se um pronome relativo empregado como elemento de coesão por retomada ou referência.
- Em "a carta de Bush-pai **contém** importantes lições para Bush-filho", a forma verbal em destaque recebeu um acento gráfico distintivo de plural.

É **CORRETO** o que consta em:

- I, II e III.
- I, apenas.
- I e II, apenas.
- III, apenas.
- II, apenas.

07

Com respeito à regência, a forma verbal que preenche adequadamente a lacuna abaixo, de acordo com as normas gramaticais, é:

Certos locais não vêm _____ as idéias presentes no Protocolo de Kioto.

- obedecendo
- utilizando
- aludindo
- correspondendo
- procedendo

08

Identifique os itens sublinhados que contêm **incorrecções** gráficas ou de qualquer natureza gramatical, contrariando a norma da língua padrão.

A **receptividade** (1) ao presidente, de modo geral, não causou **surpreza** (2). É natural que a ideologia patriótica e nacionalista torne-se **esarcerbada** (3), e, então, nessa **perspectiva** (4), as massas são compreendidas. **Tratam-se** (5) de desabafos ou **catarzes** (6).

Marque a opção que indica os números correspondentes aos itens **INCORRETOS**.

- a) 2,3,5 e 6, apenas.
- b) 1,2 e 4, apenas.
- c) 3 e 6, apenas.
- d) 1 e 4, apenas.
- e) 1,2 e 5, apenas.

09

Há emprego **CORRETO**, do verbo haver, segundo a norma culta, em:

- a) Os dois candidatos já houvera vivido essa situação?
- b) Haviam pessoas mal-educadas na recepção.
- c) “Deviam haver punições”, disse o embaixador.
- d) Assim não poderiam haver arrependimentos.
- e) Os assistentes se houveram com muita discrição.

10

Assinale a opção que apresenta o uso **CORRETO** do sinal de crase.

- a) Escolheram à melhor tese sobre a política neoliberalista.
- b) É à curiosidade de entender o ser humano que devo meu amor aos livros.
- c) Diz sempre que já leu várias vezes à carta do pai.
- d) À idéia constante no seu diário é totalmente diversa da idéia do pai.
- e) Estavam prestes à vaiar a figura considerada *persona non grata*.

11

O uso de concordância verbal e nominal, de acordo com a língua culta portuguesa, é identificado em:

- a) Aqui não existe medidas de contenção a abusos.
- b) Aconteceu problemas difíceis de ser resolvido.
- c) Comprou-se documentos ilícitos e vexatórios.
- d) Foram publicadas as leis em fevereiro relativas à sonegação de impostos.
- e) Está suspenso as experiências com etanol.

12

Substituindo o ponto de interrogação (?) pelo pronome relativo adequado, temos como **CORRETA** a construção:

- a) “A paciência é uma árvore (?) raiz é amarga”, disse o presidente. (que)
- b) São esses os amigos em (?) o presidente tem confiança. (quais)
- c) Não havia um livro (?) pudesse recorrer. (a que)
- d) Não conheço a cidade (?) nasceu presidente. (a quem)
- e) Essa é a escada (?) degraus passou o grande líder. (em onde)

13

Observe a redação do trecho a seguir.

“Já, houve, muitos prejuízos econômicos no mesmo período provocados, pelos desastres climáticos. É urgente portanto, que, Bush-filho tome, conhecimento das posições, de Bush-pai bem mais sensato.”

O trecho acima se apresenta com a pontuação incorreta. De acordo com a norma da língua culta, o referido trecho está corretamente pontuado, possibilitando melhor entendimento e clareza das idéias, em:

- a) Já houve muitos prejuízos econômicos no mesmo período provocados, pelos desastres climáticos. É, urgente portanto, que Bush-filho, tome conhecimento das posições de Bush-pai bem mais sensato.
- b) Já, houve muitos prejuízos, econômicos no mesmo período, provocados pelos desastres climáticos. É, urgente, portanto, que Bush-filho tome conhecimento das posições de Bush-pai bem, mais sensato.
- c) Já houve, muitos prejuízos econômicos, no mesmo período provocados pelos, desastres climáticos. É urgente portanto que Bush-filho tome conhecimento das posições de Bush-pai bem mais sensato.
- d) Já houve muitos prejuízos econômicos, no mesmo período, provocados pelos desastres climáticos. É urgente, portanto, que Bush-filho tome conhecimento das posições de Bush-pai, bem mais sensato.
- e) Já houve muitos prejuízos econômicos no mesmo período provocados pelos desastres climáticos. É urgente, portanto, que Bush-filho, tome conhecimento, das posições de Bush-pai, bem mais sensato.

14

O verbo está **CORRETAMENTE** empregado somente em uma das frases abaixo. Marque a opção em que ela se encontra.

- Então, **valamos** todos, do verbo valer, entendeu?
- Ele dizia: eu **valo** muito nesse contexto.
- Valhemos** muito – queiram ou não.
- “É preciso que **vales** alguma coisa”, disse o interlocutor.
- Querem que ela **valha**, o que não achamos possível.

Observe com atenção a charge a seguir, considerando as linguagens verbal e não verbal, e responda à questão proposta.



O Estado do Maranhão - 11 de março de 2007.

A charge é uma produção humorística geralmente contextualizada em um evento atual. Exige, portanto, do leitor um conhecimento prévio – a competência da *leitura de mundo*.

15

Com base nessa referência, escolha a opção adequada à leitura da charge apresentada.

- A apreciação do chiste é um pouco forçada ao leitor, devido à falta das pistas lingüísticas para um adequado entendimento global da charge.
- O entendimento do leitor dá-se apenas com a segunda fala que é a fala responsável por toda a produção de sentido da charge, concentrada na metáfora explícita.
- O entendimento do último desenho caricatural é suficiente para o leitor atingir o objetivo da produção arquitetada já que as falas são irrelevantes.
- A força sugestiva da charge está concentrada apenas na ironia produzida pelos elementos visuais, não verbais.
- O humor da produção não-verbal é reforçado com a graça transmitida pela ambigüidade implícita na produção verbal, complementando, assim, o entendimento global da charge.

Matemática

16

Sabe-se que uma cidade possui 1.300.000 árvores. Uma pesquisa revelou que nenhuma delas possui mais que 1.000.000 de folhas.

Diante de tal situação é correto afirmar que:

- Nessa cidade existem árvores com o mesmo número de folhas.
- Nessa cidade todas as árvores têm 1.000.000 de folhas.
- Não é possível encontrar, entre as árvores dessa cidade, duas com o mesmo número de folhas.
- Duas árvores quaisquer, escolhidas ao acaso, dentre as existentes nessa cidade, têm o mesmo número de folhas.
- Nessa cidade há pelo menos 300.000 árvores totalmente sem folhas.

17

Uma empresa recebeu duas propostas para locação de copiadora, por contrato de seis meses:

Empresa A: Franquia mensal não cumulativa (a sobra de um mês não pode ser usada nos meses seguintes) de 5.000 cópias por R\$ 1.000,00, mais R\$ 0,10 por cópia excedente.

Empresa B: Franquia mensal cumulativa (a sobra pode ser usada nos meses seguintes) de 5.000 cópias por R\$ 1.100,00, mais R\$ 0,05 por cópia excedente.

Para facilitar a decisão sobre a contratação, o gestor lançou mão de um levantamento que mandou fazer no ano passado sobre o número de cópias que precisou ao longo de seis meses:

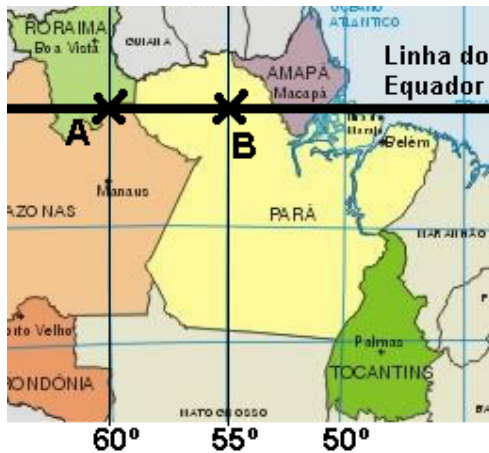
Mês	Nº de Cópias
Fev	2.800
Mar	3.000
Abr	7.000
Mai	6.900
Jun	6.700
Jul	6.200

Admitindo que esses números se repitam pelos próximos seis meses, é correto afirmar:

- Se for possível um contrato de 4 meses, a Empresa B será a mais indicada.
- É mais vantajoso contratar a Empresa B pelos próximos seis meses.
- É mais vantajoso contratar a Empresa A pelos próximos seis meses.
- Se for possível um contrato de 5 meses, a Empresa B será a mais indicada.
- Melhor seria contratar a Empresa A para os dois primeiros meses e a Empresa B para os dois meses seguintes.

18

Admita que a terra seja perfeitamente esférica com 6.300 km de raio. Considere os pontos **A** e **B**, do mapa abaixo, situados sobre a Linha do Equador.



A distância entre **A** e **B** é aproximadamente igual a (adote $\pi = 3,14$):

- a) 892 km
- b) 550 km
- c) 1.200 km
- d) 368 km
- e) 254 km

19

Um avião, voando à velocidade de 360 km/h, faz certo percurso em 48 minutos. Se voar a uma velocidade de 240 km/h, quanto tempo levará para fazer o mesmo percurso?

- a) 32min
- b) 1h 10min
- c) 1h 12min
- d) 1h 44min
- e) 56min

20

Observe as exigências de I a IV a seguir apresentadas:

- I. as três primeiras palavras da linha rimam entre si;
- II. as duas últimas palavras da linha têm o mesmo número de letras;
- III. na linha, cada palavra começa com letra diferente;
- IV. a primeira e a última palavra da linha têm o mesmo número de sílabas.

Dentre as alternativas a seguir, apenas uma apresenta palavras que atendem a todas as exigências estabelecidas. Assinale-a:

- a) pipoca, foca, chacota, lata, gata
- b) mala, cala, fala, quase, fases
- c) rota, cota, pipoca, leão, bujão
- d) fala, ala, mala, quase, litro
- e) fileira, queira, beira, biela, fivela

21

Uma pizzaria apresenta em seu cardápio 10 variedades (tipos) de pizza e oferece, ainda, aos clientes, pizzas mistas, formadas com três dessas variedades. Um cliente decidiu experimentar todas essas possibilidades (pizzas mistas com três variedades) e, para isso resolveu ir à pizzaria todos os domingos para comer uma dessas pizzas mistas. Se começou a executar esse plano em janeiro de 2007, no primeiro domingo do ano; se continuar a ir à pizzaria todos os domingos, sem falta; se não repetir as pizzas já pedidas e se a pizzaria não mudar o cardápio que oferece, ele alcançará seu objetivo:

- a) no 1º semestre de 2009
- b) em dezembro 2008
- c) em agosto 2008
- d) somente em 2010
- e) em dezembro de 2007

22

O número da minha casa é formado por três algarismos que têm soma 15. O algarismo das dezenas supera o algarismo das unidades e o algarismo das unidades supera a soma dos outros dois em uma unidade. O número da minha casa é:

- a) 366
- b) 258
- c) 636
- d) 474
- e) 528

23

Em uma loja, um cartaz anuncia uma promoção:

TELEFONE CELULAR
CELPHONE
 Apenas R\$ **95^{.00}** à vista ou
20 X R\$ 10^{.45}

A pessoa que optar pela compra a prazo, pagará juros (em relação ao preço à vista) correspondentes a:

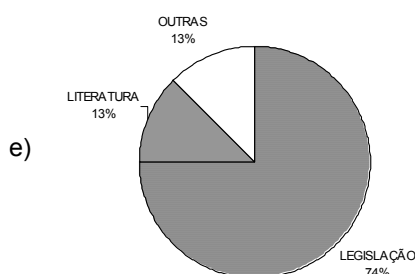
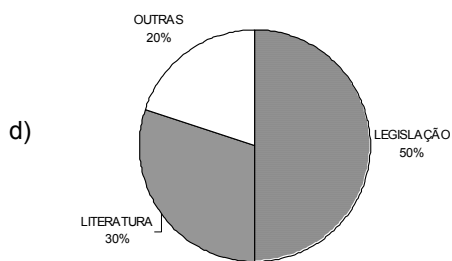
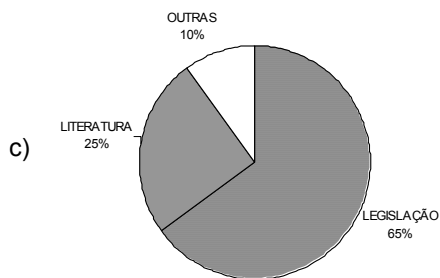
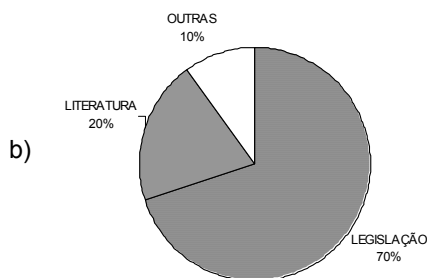
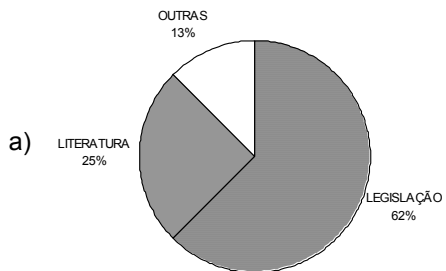
- a) 75%
- b) 145%
- c) 98%
- d) 100%
- e) 120%

24

Do acervo da Biblioteca da Câmara Municipal, sabe-se que:

- I. $\frac{5}{8}$ correspondem a obras relativas à legislação;
- II. $\frac{1}{4}$ corresponde a obras da literatura regional;
- III. $\frac{1}{8}$ corresponde a outras obras.

O gráfico que representa adequadamente essa distribuição é:



25

A prestação da casa própria do Senhor Honório, após um aumento de 20%, passou para R\$ 1.020,00. Qual o valor da prestação antes do aumento?

- a) R\$ 850,00
- b) R\$ 1.000,00
- c) R\$ 925,00
- d) R\$ 816,00
- e) R\$ 916,00

Noções de Informática

26

Considerando conceitos e serviços relacionados à Internet, associe as colunas abaixo:

Coluna 1

- (1) Provedor
- (2) endereço de e-mail
- (3) Browser
- (4) Link
- (5) Gerenciador de e-mails

Coluna 2

- () <http://www.fsadu.org.br/infconcur/>
- () concursos@fsadu.org.br
- () Elo Internet / Hotmail / Yahoo
- () Microsoft Outlook
- () Mozilla Firefox

Marque a opção que corresponde à seqüência **CORRETA**, de cima para baixo.

- a) 3, 4, 2, 1, 5
- b) 4, 2, 1, 5, 3
- c) 2, 1, 5, 4, 3
- d) 4, 3, 5, 1, 2
- e) 1, 5, 2, 3, 4

27

De que forma pode-se colocar um comentário em uma célula do Microsoft Excel XP?

- a) Clicar com o botão direito do mouse na célula e selecionar Lista de Opções.
- b) Clicar no menu Formatar e selecionar Células.
- c) Clicar no menu Ferramentas e selecionar Comentários.
- d) Clicar com o botão direito do mouse na célula e escolher Inserir Comentário.
- e) Clicar com o botão direito do mouse na célula, selecionar o menu Editar.

28

Para maior agilidade na execução de tarefas, torna-se necessário o conhecimento das ferramentas a serem utilizadas. De acordo com as tarefas sugeridas e as opções da "Barra de Menus" do Microsoft Word XP, marque as associações abaixo com V ou F, conforme sejam verdadeiras ou falsas.

- () Formatar o número de página do documento.
Inserir > Números de páginas...
- () Formatar texto com marcadores ou numeração.
Formatar > Marcadores e numeração...
- () Inserir Sombreamento em determinado texto.
Inserir > Bordas e Sombreamento...
- () Formatar a fonte de determinado parágrafo para o estilo "Negrito Itálico".
Editar > Fonte...
- () Editar cabeçalho de documento para realizar alterações.
Exibir > Cabeçalho e rodapé

A seqüência **CORRETA** de marcação, considerada de cima para baixo, está presente na opção:

- a) F, V, F, V, V
b) V, F, V, F, V
c) V, V, F, F, V
d) F, F, V, V, V
e) F, V, V, F, V

29

Analise as afirmações abaixo.

- I. Apesar de serem softwares, os vírus de computador podem causar danos a alguns hardwares.
- II. O modem é um software necessário ao acesso à Internet.
- III. O Microsoft Office XP é um conjunto de Programas atuais que não podem ser executados em microcomputadores com Sistemas Operacionais mais antigos como o Microsoft Windows 98.
- IV. Pen Drive é um dispositivo de armazenamento de dados que utiliza um adaptador USB para conexão direta com o computador.
- V. A velocidade de acesso à internet depende somente da performance do computador a ser utilizado.

As afirmações **CORRETAS** são:

- a) II e IV apenas.
b) II, IV e V, apenas.
c) I, II, III, IV e V.
d) I, III e V, apenas.
e) I e IV, apenas.

30

Os botões apresentados da figura abaixo estão presentes na Barra de Ferramentas do Microsoft Excel 2002.



As funções desses três botões são, respectivamente:

- a) Inserir seqüência — Configurar largura — Bloquear célula
- b) Classificação crescente — Mesclar e centralizar — Inserir hiperlink
- c) Classificação alfabética — Configurar espaçamento — Inserir hiperlink
- d) Classificação crescente — Justificar — Bloquear célula
- e) Inserir seqüência — Justificar — Vincular célula

Conhecimentos Específicos**31**

Com base no que a Constituição Federal dispõe para os Municípios, julgue os itens abaixo em V (verdadeiro) ou F (falso) e assinale a opção correspondente.

- () Os municípios são responsáveis por organizar e prestar, diretamente ou sob regime de concessão ou permissão, os serviços públicos de interesse local, incluído o de transporte coletivo.
- () Os municípios, mediante cooperação técnica e financeira da União e dos Estados, são responsáveis por programas de educação de ensino fundamental e superior.
- () O Poder Executivo Municipal é responsável pela fiscalização do Município, exercida mediante controle externo pela Câmara de Vereadores, na forma da lei.
- () O Município rege-se por lei orgânica, votada em dois turnos e aprovada por dois terços dos membros da Câmara Municipal.
- () Prefeitos, Vice-Prefeitos e Vereadores são eleitos, mediante pleito indireto e sistemático, realizado em cada município para mandato de quatro anos.
- a) V-V-V-V-V
b) F-V-V-V-V
c) V-F-V-F-F
d) V-F-F-V-F
e) F-V-V-V-F

32

Segundo dispõe o artigo 37 da Constituição Federal, a Administração Pública direta e indireta de qualquer dos Poderes da União, dos Estados, do Distrito Federal e dos Municípios obedecerá aos princípios de:

- a) Eficiência, Legalidade, Impessoalidade, Moralidade e Publicidade.
- b) Legalidade, Pessoalidade, Moralidade, Publicidade e Eficácia.
- c) Legitimidade, Legalidade, Probidade Administrativa e Impessoalidade.
- d) Legalidade, Impessoalidade, Economicidade e Probidade Administrativa.
- e) Legalidade, Eficiência, Eficácia, Economicidade e Publicidade.

33

Escolha, dentre as opções apresentadas, aquela que completa corretamente a lacuna do texto abaixo.

Diz-se que a(s) _____ é(são) o conjunto de Unidades organizacionais que integram a estrutura administrativa de cada um dos Poderes da União, dos Estados e dos Municípios.

- a) Fundações e órgãos
- b) Administração indireta
- c) Fundações e autarquias
- d) Administração direta
- e) Empresas e sociedades de economia mista

34

Julgue os itens abaixo em V (verdadeiro) ou F (falso) e assinale a opção correspondente.

- () É garantido ao servidor público civil o direito à livre associação sindical;
- () Mediante lei específica é permitida a contratação de pessoal, por tempo determinado, para atender a necessidade temporária de excepcional interesse público.
- () É vedada a acumulação remunerada de cargos públicos, exceto, apenas, quando houver compatibilidade de horários, a de um cargo de professor com outro de médico.
- () A proibição de acumulação de cargos, empregos e funções não abrange as autarquias, fundações e empresas públicas.
- () A publicidade dos programas, obras, serviços e campanhas dos órgãos públicos deverá ter caráter elucidativo e de orientação social, podendo constar nomes, símbolos ou imagens que caracterizem promoção pessoal dos gestores públicos responsáveis.

- a) V-V-V-V-V
- b) F-F-F-F-F
- c) V-V-F-F-F
- d) V-V-V-V-F
- e) F-F-V-F-V

35

Dentre as opções apresentadas, uma contempla um item não previsto na elaboração do processo legislativo. Assinale-a.

- a) Emendas à Constituição; leis complementares; leis ordinárias; decretos legislativos; e resoluções.
- b) Leis suplementares; leis ordinárias; leis delegadas; decretos executivos e resoluções legislativas.
- c) Emendas à Constituição; leis ordinárias; leis delegadas; medidas provisórias e resoluções.
- d) Emendas à Constituição; leis complementares; leis ordinárias; leis delegadas e medidas provisórias.
- e) Decretos legislativos; leis ordinárias; medidas provisórias; decretos legislativos e resoluções.

36

Dentre as opções apresentadas a seguir, apenas uma é verdadeira. Assinale-a.

- a) A discussão e votação dos projetos de lei de iniciativa do Presidente da República, do Supremo Tribunal Federal e dos Tribunais Superiores sempre terão início no Senado.
- b) A Constituição Federal proíbe que os cidadãos possam tomar a iniciativa de proposição de leis complementares e ordinárias.
- c) Nos casos de relevância e urgência, quando o Presidente da República adota medida provisória e está em força de lei, não é necessário submetê-la ao Congresso Nacional.
- d) Leis delegadas são aquelas diretamente elaboradas pelos Senadores, Deputados ou Vereadores, pois tratam de atos de competência exclusiva do Poder Legislativo.
- e) É vedada a edição de medida provisória que trate de matéria referente ao plano plurianual, diretrizes orçamentárias e orçamento anual.

37

Dentre as opções apresentadas, assinale a que constitui o ato pelo qual um processo que, tendo deixado de atender às formalidades indispensáveis ou de cumprir alguma disposição legal, é devolvido ao órgão que assim procedeu, com vistas a corrigir ou sanar as falhas verificadas.

- a) Diligência
- b) Distribuição
- c) Resolução Administrativa
- d) Despacho
- e) Juntada

38

Tem em vista retratar graficamente a estrutura organizacional de uma organização, especificando as linhas formais de autoridade, os níveis hierárquicos e a divisão das atividades:

- Fluxograma.
- Cronograma.
- Organograma.
- Manual de Organização.
- Formulário.

39

Dentre as funções universais da administração está a de *medir e dimensionar os atos, para verificar se estão ocorrendo de acordo com o plano traçado, detectando falhas e erros com a finalidade de corrigi-los.*

Tal função denomina-se:

- Coordenação.
- Planejamento.
- Controle.
- Previsão.
- Organização.

40

As mudanças ocorridas no campo social, econômico, político e tecnológico trouxeram novas variáveis para o estudo da administração, provocando uma revisão dos conceitos e princípios até então aceitos e adotados. Com isso, novas teorias sobre relações humanas passaram a dominar a administração, incluindo temas como *motivação, liderança, comunicação, organização informal e dinâmica de grupos.*

Com relação ao texto acima apresentado, é **FALSO** afirmar:

- Os trabalhadores são pessoas sociais complexas, com sentimentos, desejos e temores.
- Necessidades fisiológicas, tais como alimentação, sono e atividade física podem influir na sua motivação e na produtividade na organização.
- Adequados estilos de supervisão e de liderança podem afetar positivamente o comportamento de grupos de pessoas dentro de uma organização.
- A liderança é necessária em todos os tipos de organização e é essencial em todas as funções administrativas.
- Os grupos costumam estabelecer normas e padrões de relações e atitudes que refletem seus interesses. No entanto, tais normas não funcionam como mecanismos reguladores do comportamento dos seus membros.

41

A figura abaixo destaca um recurso técnico a que recorrem as organizações para atuar dentro das concepções da moderna administração, mediante a representação sucinta e ilustrada de um fato ou fenômeno.

Projeto: construção de um galpão (2007)		
Fases	Previsão	Execução
Escolha do terreno	01/jan - 10/fev	01/jan - 18/jan
Aquisição do terreno	11/fev - 05/mar	18/jan - 19/fev
Preparo do terreno	06/mar - 30/mar	20/fev - 08/abr
Fundações	31/mar - 30/jun	08/abr -
Estrutura	01/jul - 30/set	
Instalações	15/set - 15/out	
Pintura	16/out - 30/nov	
Acabamento e limpeza	20/nov - 10/dez	

Tal figura representa:

- Plano Decisório de ação.
- Organograma linear.
- Organograma temporal de colunas.
- Cronograma.
- Fluxograma de rotina e processo de construção .

42

O planejamento pode ser entendido como um método que sistematiza os processos de tomada de decisões e proposição de ações, respondendo às seguintes questões: **O que fazer? Como fazer? Quando fazer? Onde fazer? Com que meios fazer?**

A fase do planejamento *que envolve o conhecimento do problema em todos os seus aspectos, sejam internos ou externos, mediante a reunião de informes de jornais, revistas especializadas, boletins, exames, entrevistas, sondagens e outros meios* é denominada:

- Supervisão.
- Planificação.
- Previsão.
- Implantação.
- Coleta de dados.

43

Representa, na comunicação oficial, a decisão proferida por autoridade administrativa em caso que lhe é submetido à apreciação, podendo ser favorável ou desfavorável à pretensão do solicitante, seja ele servidor público ou não.

- Diligência.
- Despacho.
- Termo de Juntada.
- Interlocutória Administrativa.
- Apensação conclusiva.

44

Uma das opções abaixo completa corretamente a lacuna apresentada no texto. Assinale-a.

O(A) _____ é a unidade junto ao órgão ou entidade da administração, cuja função é dar suporte às rotinas de recebimento e expedição dos diversos documentos que chegam ou saem do órgão ou entidade.

- a) Protocolo
- b) Apoio
- c) Recepção
- d) Registro
- e) Almoxarifado

45

A licitação destina-se a garantir a observância do princípio constitucional da isonomia e a selecionar a proposta mais vantajosa para a Administração. Para tanto, o processamento e o julgamento da licitação deverá observar, além dos princípios constitucionais, os seguintes:

- a) vinculação ao instrumento convocatório e julgamento objetivo.
- b) proibidade administrativa e julgamento subjetivo.
- c) vinculação ao instrumento convocatório e adjudicação objetiva.
- d) adjudicação objetiva e homologação vinculada ao instrumento convocatório.
- e) menor preço e proibidade administrativa.

46

Apenas uma das opções a seguir contempla corretamente tipos de licitação dispostos na Lei de Licitações e Contratos (Lei nº 8.666/1993). Assinale-a.

- a) Maior lance ou oferta, menor lance ou oferta e melhor técnica.
- b) Convite, tomada de preço e concorrência pública.
- c) Dispensa, inexigibilidade e carta-convite.
- d) Menor preço, melhor técnica e técnica e preço.
- e) Concorrência pública, tomada de preço e leilão.

47

Segundo dispõe a Lei de Licitações e Contratos, os **contratos administrativos** devem, necessariamente, conter cláusulas que estabeleçam certos requisitos.

Dentre as opções apresentadas, uma **NÃO** representa cláusula necessária. Assinale-a.

- a) O objeto e seus elementos característicos.
- b) O preço e as condições de pagamento, os critérios, data-base e periodicidade do reajustamento de preços, os critérios de atualização monetária entre a data do adimplemento das obrigações e a do efetivo pagamento.
- c) Os prazos de início de etapas de execução, de conclusão, de entrega, de observação e de recebimento definitivo, conforme o caso.
- d) O regime de execução ou a forma de fornecimento.
- e) O crédito pelo qual correrá a despesa, com a indicação da conta bancária do fornecedor para depósito dos valores a serem pagos.

48

A Lei nº 10.520/2002 instituiu, no âmbito da União, Estados, Distrito Federal e Municípios, a modalidade de licitação denominada pregão, voltada para aquisição de bens e serviços comuns. Com base no que dispõe a Lei é verdadeiro afirmar que:

- a) a fase externa do pregão se inicia com a justificativa da autoridade competente quanto à necessidade de contratação, a definição do objeto do certame e preço máximo proposto.
- b) a fase interna do pregão é iniciada com a convocação dos interessados, os quais devem ser convocados por meio de publicação de aviso em diário oficial do respectivo ente federado ou, não existindo, por meios eletrônicos.
- c) aplicam-se subsidiariamente, para a modalidade de pregão, as normas da Lei de licitações e Contratos (Lei nº 8.666/1993).
- d) ao pregão não há necessidade de exigências de habilitação ou de critérios de aceitação das propostas, pois o que se faz necessário é apenas a composição dos preços e a fixação dos prazos para fornecimento.
- e) o pregão sempre deverá ser realizado por meio da utilização de recursos de tecnologia da informação (pregão eletrônico), devendo os municípios de menor porte firmar convênios com Estados e a União Federal para o apoio logístico.

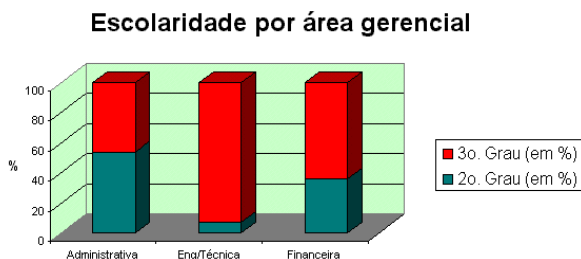
49

Com base no que estabelece o Regimento Interno da Câmara Municipal de Codó, assinale a opção correta.

- A Câmara dos Vereadores reúne-se em sessões ordinárias que acontecem de 15 de fevereiro a 30 de junho e de 1º de julho a 05 de dezembro de cada ano, e todas as sessões realizadas em outras datas são consideradas extraordinárias.
- Quando convocada extraordinariamente, a Câmara de Vereadores somente deverá deliberar sobre a matéria objeto da convocação.
- A Câmara Municipal poderá funcionar em outro local que não a sua sede, sempre que o seu Presidente, entendendo que haja motivo relevante, assim o determinar.
- Cabe exclusivamente ao Presidente da Câmara tomar o juramento do Prefeito e do Vice-Prefeito e dar-lhes posse em sessão solene e privativa na presença da Mesa Executora.
- À Mesa Diretora da Câmara caberá, a qualquer tempo, a convocação para as sessões ordinárias e extraordinárias, ouvidos os parlamentares quanto à disposição de tempo e urgência, no caso de convocação extraordinária.

50

Com base no gráfico abaixo, que retrata a distribuição dos empregados de uma organização, por grau de escolaridade e área de atuação, analise as opções apresentadas e assinale a correta.



- A relação percentual entre o número de empregados com 3º grau e o número de empregados com apenas o 2º grau não alcança 50%.
- A área administrativa, embora apresente maior número de empregados apenas com o 2º grau, possui menor número de empregados que a área financeira.
- A área de engenharia técnica é a que apresenta o maior número de empregados com o 3º grau.
- A empresa possui mais que 85 empregados que têm apenas o 2º grau.
- A empresa possui, no mínimo, 300 empregados, sendo que não mais que 200 possuem o 3º grau.