



**CONCURSO PÚBLICO PARA PROVIMENTO DE  
CARGOS EFETIVOS DO QUADRO DE PESSOAL  
DA CÂMARA MUNICIPAL DE CODÓ/MA  
EDITAL Nº 001/2006, de 26 DE DEZEMBRO de 2006**

**PROVA OBJETIVA**

**TÉCNICO LEGISLATIVO**

**INSTRUÇÕES**

- Verifique se este caderno contém 50 questões, sendo 15 de Língua Portuguesa, 10 de Matemática, 05 de Noções de Informática e 20 de Conhecimentos Específicos.
- Verifique na Folha de Respostas se o seu nome e número do documento de identificação estão corretos.
- Indique na Folha de Respostas a cor da capa de seu Caderno de Provas.
- Em cada questão, você deve assinalar somente uma das alternativas.
- Será anulada a questão que contiver emenda, rasura ou, ainda, a que apresentar mais de uma alternativa assinalada na Folha de Respostas.
- Ao marcar a alternativa correta na Folha de Respostas, use caneta esferográfica de tinta preta, ponta grossa.
- Ao final da prova, devolva ao fiscal de sala a Folha de Respostas assinada no local indicado.
- Os 2 (dois) últimos candidatos de cada sala só poderão ser liberados juntos.

**CERTO**

	A	B	C	D	E
1	<input checked="" type="radio"/>	<input type="radio"/>	<input type="radio"/>	<input type="radio"/>	<input type="radio"/>
2	<input type="radio"/>	<input checked="" type="radio"/>	<input type="radio"/>	<input type="radio"/>	<input type="radio"/>
3	<input type="radio"/>	<input type="radio"/>	<input checked="" type="radio"/>	<input type="radio"/>	<input type="radio"/>
4	<input type="radio"/>	<input type="radio"/>	<input type="radio"/>	<input checked="" type="radio"/>	<input type="radio"/>
5	<input type="radio"/>	<input type="radio"/>	<input type="radio"/>	<input type="radio"/>	<input checked="" type="radio"/>
6	<input type="radio"/>	<input type="radio"/>	<input type="radio"/>	<input type="radio"/>	<input checked="" type="radio"/>

**ERRADO**

	A	B	C	D	E
21	<input checked="" type="radio"/>	<input checked="" type="radio"/>	<input type="radio"/>	<input type="radio"/>	<input type="radio"/>
22	<input type="radio"/>	<input checked="" type="radio"/>	<input checked="" type="radio"/>	<input type="radio"/>	<input type="radio"/>
23	<input type="radio"/>	<input checked="" type="radio"/>	<input checked="" type="radio"/>	<input type="radio"/>	<input type="radio"/>
24	<input type="radio"/>	<input checked="" type="radio"/>	<input checked="" type="radio"/>	<input type="radio"/>	<input type="radio"/>
25	<input type="radio"/>	<input checked="" type="radio"/>	<input checked="" type="radio"/>	<input type="radio"/>	<input type="radio"/>
26	<input checked="" type="radio"/>	<input type="radio"/>	<input type="radio"/>	<input checked="" type="radio"/>	<input type="radio"/>

**PROVA VERDE**

Execução:

**F** Fundação  
Sousândrade  
DE APOIO AO DESENVOLVIMENTO DA UFM/PA

**Boa prova!**

A duração total da prova é de 4 horas. Este tempo inclui a marcação da Folha de Respostas.  
Você só poderá levar o Caderno de Provas após transcorridas 02 (duas) horas do início das provas.

NOME \_\_\_\_\_

INSCRIÇÃO \_\_\_\_\_

DATA / HORÁRIO \_\_\_\_\_



## Língua Portuguesa

### 01

Substituindo o ponto de interrogação (?) pelo pronome relativo adequado, temos como **CORRETA** a construção:

- “A paciência é uma árvore (?) raiz é amarga”, disse o presidente. (que)
- São esses os amigos em (?) o presidente tem confiança. (quais)
- Não havia um livro (?) pudesse recorrer. (a que)
- Não conheço a cidade (?) nasceu presidente. (a quem)
- Essa é a escada (?) degraus passou o grande líder. (em onde)

### 02

Observe a redação do trecho a seguir.

“Já, houve, muitos prejuízos econômicos no mesmo período provocados, pelos desastres climáticos. É urgente portanto, que, Bush-filho tome, conhecimento das posições, de Bush-pai bem mais sensato.”

O trecho acima se apresenta com a pontuação incorreta. De acordo com a norma da língua culta, o referido trecho está corretamente pontuado, possibilitando melhor entendimento e clareza das idéias, em:

- Já houve muitos prejuízos econômicos no mesmo período provocados, pelos desastres climáticos. É, urgente portanto, que Bush-filho, tome conhecimento das posições de Bush-pai bem mais sensato.
- Já, houve muitos prejuízos, econômicos no mesmo período, provocados pelos desastres climáticos. É, urgente, portanto, que Bush-filho tome conhecimento das posições de Bush-pai bem, mais sensato.
- Já houve, muitos prejuízos econômicos, no mesmo período provocados pelos, desastres climáticos. É urgente portanto que Bush-filho tome conhecimento das posições de Bush-pai bem mais sensato.
- Já houve muitos prejuízos econômicos, no mesmo período, provocados pelos desastres climáticos. É urgente, portanto, que Bush-filho tome conhecimento das posições de Bush-pai, bem mais sensato.
- Já houve muitos prejuízos econômicos no mesmo período provocados pelos desastres climáticos. É urgente, portanto, que Bush-filho, tome conhecimento, das posições de Bush-pai, bem mais sensato.

### 03

O verbo está **CORRETAMENTE** empregado somente em uma das frases abaixo. Marque a opção em que ela se encontra.

- Então, **valamos** todos, do verbo valer, entendeu?
- Ele dizia: eu **valo** muito nesse contexto.
- Valhemos** muito – queiram ou não.
- “É preciso que **vales** alguma coisa”, disse o interlocutor.
- Querem que ela **valha**, o que não achamos possível.

Observe com atenção a charge a seguir, considerando as linguagens verbal e não verbal, e responda à questão proposta.



O Estado do Maranhão - 11 de março de 2007.

A charge é uma produção humorística geralmente contextualizada em um evento atual. Exige, portanto, do leitor um conhecimento prévio – a competência da *leitura de mundo*.

### 04

Com base nessa referência, escolha a opção adequada à leitura da charge apresentada.

- A apreciação do chiste é um pouco forçada ao leitor, devido à falta das pistas lingüísticas para um adequado entendimento global da charge.
- O entendimento do leitor dá-se apenas com a segunda fala que é a fala responsável por toda a produção de sentido da charge, concentrada na metáfora explícita.
- O entendimento do último desenho caricatural é suficiente para o leitor atingir o objetivo da produção arquitetada já que as falas são irrelevantes.
- A força sugestiva da charge está concentrada apenas na ironia produzida pelos elementos visuais, não verbais.
- O humor da produção não-verbal é reforçado com a graça transmitida pela ambigüidade implícita na produção verbal, complementando, assim, o entendimento global da charge.

Leia o texto e responda às questões **05**, **06** e **07**.

O presidente George Walker Bush costuma evocar o pai George Bush, a quem se refere publicamente por *dad*, quando tem questões importantes a tratar. Quando decidiu invadir o Iraque, explicou que pretendia terminar o serviço iniciado por *dad* – Bush-pai entrou em guerra com Saddam Hussein em 1990, mas ficou no meio do caminho. Quando anunciou que daria prioridade às negociações da Área de Livre Comércio das Américas, por exemplo, explicou que faria isso porque a ALCA foi uma idéia de *dad*. Contudo, no tema mais relevante para o planeta, a questão do aquecimento global, Bush-filho tem ignorado solenemente as idéias de *dad*. Não se sabe se os dois já conversaram sobre o assunto, nem em que termos. O que se sabe é que em sua passagem pelo poder, Bush-pai demonstrava em público alguma preocupação ecológica. E que foi um dos 176 chefes de Estado que em 1992 participaram da Conferência das Nações Unidas sobre Meio Ambiente e Desenvolvimento Sustentável, a Eco-92.

Rev. ISTO É, n° 1949, 07.03.2007

### 05

Marque a opção que, mantendo a modalidade escrita da norma padrão, expressa as mesmas idéias do trecho sublinhado acima.

- Logo que resolveu invadir o Iraque, esclareceu que intensificava apresentar o serviço iniciado por *dad* – Bush-pai entrou em guerra com Saddam Hussein em 1990, mas saiu da direção.
- Quando resolveu invadir o Iraque, explicou que intentava terminar o serviço iniciado por *dad* – Bush-pai entrou em combate com Saddam Hussein em 1990, contudo ficou no meio do caminho.
- Quando resolveu invadir o Iraque, explicou que tencionava acabar o serviço começado por *dad* – Bush-pai adentrou em guerra com Saddam Hussein em 1990, já que ficou no meio do caminho.
- Logo que decidiu invadir o Iraque, explicou que pretendia acabar o serviço começado por *dad* – Bush-pai iniciou guerra com Saddam Hussein em 1990, sequer, no entanto, ficou no meio da bravata.
- Assim que resolveu invadir o Iraque, deu a conhecer que pretendia terminar o ofício deslançado por *dad* – Bush-pai entrou em contenda com Saddam Hussein em 1990, porquanto recuou da bravata.

### 06

Leia:

- “costuma evocar o pai George Bush...”
- “Quando anunciou que daria prioridade às negociações...”
- “...no tema mais relevante para o planeta, [...] tem ignorado solenemente as idéias de *dad*.”
- “Não se sabe se os dois já conversaram sobre o assunto...”

A opção que apresenta, respectivamente, sinônimos das palavras destacadas acima, resguardando o contexto, é:

- I - sugerir  
II - destaque, exigências  
III - temeroso, instigantemente  
IV - a cerca de
- I - evidenciar  
II - importância, negociatas  
III - essencial, com indiferença  
IV - sob
- I - lembrar  
II - primazia, discussões  
III - importante, formalmente  
IV - acerca de
- I - referir  
II - proeminência, propostas  
III - discutido, pomposamente  
IV - de relance
- I - recordar  
II - primazia, imposições  
III - complicado, vigorosamente  
IV - de afogadilho

### 07

A idéia crítica principal desse parágrafo está contida em:

- “Bush-pai demonstrava em público alguma preocupação ecológica.”
- “Quando decidiu invadir o Iraque, explicou que pretendia terminar o serviço iniciado por *dad* – ....”
- “Quando anunciou que daria prioridade às negociações da Área de Livre Comércio das Américas,....”
- “Contudo, no tema mais relevante para o planeta, a questão do aquecimento global, Bush-filho tem ignorado solenemente as idéias de *dad*.”
- “E que foi um dos 176 chefes de Estado que em 1992 participaram da Conferência das Nações Unidas sobre Meio Ambiente e Desenvolvimento Sustentável, a Eco-92.”

As questões de **08** a **10** referem-se ao texto abaixo.

ISTO É teve acesso a um documento, esquecido nos arquivos do Itamaraty, que revela um Bush-pai com idéias bastante claras e avançadas sobre a necessidade de os Estados Unidos e das demais nações envolvidas se engajarem num esforço global de redução drástica das emissões de gases causadores do efeito estufa. Trata-se de um comunicado da Casa Branca, assinado por George Bush, no qual ele confirma sua presença na Eco-92 ao então presidente Fernando Collor e ao então secretário-geral da ONU, Boutros Ghali - e aproveita para expor suas idéias sobre meio ambiente. Divulgado em português e inglês, a carta de Bush-pai contém importantes lições para Bush-filho. "Os problemas ambientais de hoje são globais, e cada nação precisa ajudar a solucioná-lo", ensina Bush-pai já nas primeiras linhas. "Durante mais de duas décadas, os Estados Unidos demonstraram como a proteção do meio ambiente e o estímulo do crescimento econômico podem ser conciliados".

Bush-filho acredita no oposto-contraditório. Ele acha que meio ambiente tranca a economia. Há dois anos, quando começou a vigorar o Protocolo de Kioto, 141 países comprometem-se a reduzir as emissões de dióxido de carbono aos níveis de 1990 (hoje já são 180 signatários). **Os EUA sozinhos são responsáveis pela emissão de 25% dos gases poluentes.** Mas Bush-filho qualificou o protocolo de "fundamentalmente equivocado". E não assinou.

Rev. ISTO É, nº 1949, 07.03.2007

### 08

As revistas, os jornais procuram ter uma feição própria para atrair o seu leitor, conquistando-o não apenas por **aquilo que dizem**, mas, principalmente, **pelo modo como dizem**. A partir dessa reflexão, é possível constatar no texto acima uma forma de alimentar uma possível manipulação, pelo(a)

- estratégia usada na construção de um sentido em que se projeta a oposição sapiência *versus* ignorância.
- objetividade empregada que elimina o mecanismo da intersubjetividade autor/leitor.
- exploração da conduta informação/sem opinião, buscando a neutralidade do texto.
- atitude fragmentária na condução do texto, o que deixa o leitor solto, tentando suprir uma falta: a sua própria por escassez de dados.
- mecanismo de uso de erudição em um ato discursório.

### 09

Considerando o contexto, é correto afirmar que, no texto,

- o sujeito de **aproveita** em "Boutros Ghali – e aproveita para expor suas idéias sobre meio ambiente" é Boutros Ghali.
- o termo **bastante** em "idéias **bastante** claras e avançadas..." torna-se invariável por se tratar de um pronome indefinido.
- a retomada do termo **George Bush** é feita pelo termo **no qual** em "Trata-se de um comunicado da Casa Branca, assinado por George Bush, no qual ele confirma sua presença na Eco-92..."
- a separação da preposição **de** do artigo **os** em "a necessidade **de os** Estado Unidos e das demais nações envolvidas se engajarem..." é de uso próprio da língua culta.
- a vírgula em "Durante mais de duas décadas, os Estados Unidos demonstraram..." não tem função justificada pela sintaxe da língua padrão.

### 10

Analise os itens a seguir, considerando o contexto:

- Em "ISTO É teve acesso a um documento,...", registra-se emprego falho de regência nominal.
- Em "**que** revela um Bush-pai com idéias bastante claras e avançadas...", reconhece-se um pronome relativo empregado como elemento de coesão por retomada ou referência.
- Em "a carta de Bush-pai **contém** importantes lições para Bush-filho", a forma verbal em destaque recebeu um acento gráfico distintivo de plural.

É **CORRETO** o que consta em:

- I, II e III.
- I, apenas.
- I e II, apenas.
- III, apenas.
- II, apenas.

### 11

Com respeito à regência, a forma verbal que preenche adequadamente a lacuna abaixo, de acordo com as normas gramaticais, é:

Certos locais não vêm \_\_\_\_\_ as idéias presentes no Protocolo de Kioto.

- obedecendo
- utilizando
- aludindo
- correspondendo
- procedendo

**12**

Há emprego **CORRETO**, do verbo haver, segundo a norma culta, em:

- a) Os dois candidatos já houvera vivido essa situação?
- b) Haviam pessoas mal-educadas na recepção.
- c) “Deviam haver punições”, disse o embaixador.
- d) Assim não poderiam haver arrependimentos.
- e) Os assistentes se houveram com muita discrição.

**13**

O uso de concordância verbal e nominal, de acordo com a língua culta portuguesa, é identificado em:

- a) Aqui não existe medidas de contenção a abusos.
- b) Aconteceu problemas difíceis de ser resolvido.
- c) Comprou-se documentos ilícitos e vexatórios.
- d) Foram publicadas as leis em fevereiro relativas à sonegação de impostos.
- e) Está suspenso as experiências com etanol.

**14**

Assinale a opção que apresenta o uso **CORRETO** do sinal de crase.

- a) Escolheram à melhor tese sobre a política neoliberalista.
- b) É à curiosidade de entender o ser humano que devo meu amor aos livros.
- c) Diz sempre que já leu várias vezes à carta do pai.
- d) À idéia constante no seu diário é totalmente diversa da idéia do pai.
- e) Estavam prestes à vaiar a figura considerada *persona non grata*.

**15**

Identifique os itens sublinhados que contêm **incorrecções** gráficas ou de qualquer natureza gramatical, contrariando a norma da língua padrão.

A **receptividade** (1) ao presidente, de modo geral, não causou **surpreza** (2). É natural que a ideologia patriótica e nacionalista torne-se **esarcerbada** (3), e, então, nessa **perspectiva** (4), as massas são compreendidas. **Tratam-se** (5) de desabafos ou **catarzes** (6).

Marque a opção que indica os números correspondentes aos itens **INCORRETOS**.

- a) 2,3,5 e 6, apenas.
- b) 1,2 e 4, apenas.
- c) 3 e 6, apenas.
- d) 1 e 4, apenas.
- e) 1,2 e 5, apenas.

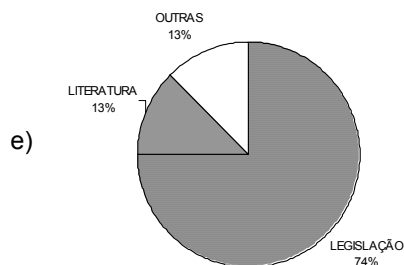
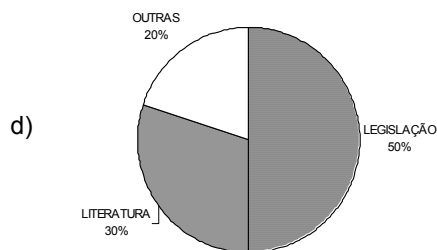
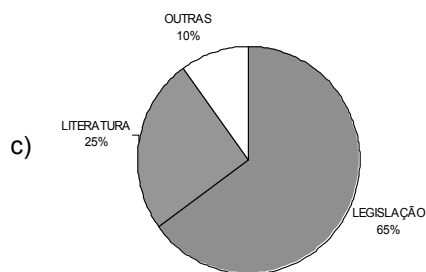
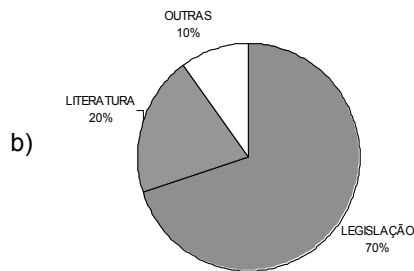
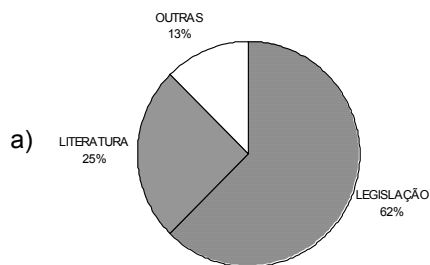
**Matemática**

**16**

Do acervo da Biblioteca da Câmara Municipal, sabe-se que:

- I.  $\frac{5}{8}$  correspondem a obras relativas à legislação;
- II.  $\frac{1}{4}$  corresponde a obras da literatura regional;
- III.  $\frac{1}{8}$  corresponde a outras obras.

O gráfico que representa adequadamente essa distribuição é:



**17**

Observe as exigências de I a IV a seguir apresentadas:

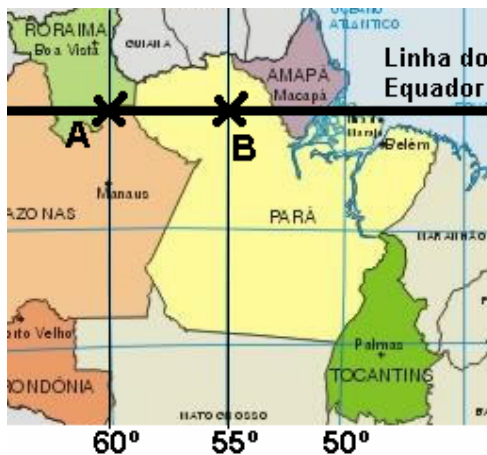
- I. as três primeiras palavras da linha rimam entre si;
- II. as duas últimas palavras da linha têm o mesmo número de letras;
- III. na linha, cada palavra começa com letra diferente;
- IV. a primeira e a última palavra da linha têm o mesmo número de sílabas.

Dentre as alternativas a seguir, apenas uma apresenta palavras que atendem a todas as exigências estabelecidas. Assinale-a:

- a) pipoca, foca, chacota, lata, gata
- b) mala, cala, fala, quase, fases
- c) rota, cota, pipoca, leão, bujão
- d) fala, ala, mala, quase, litro
- e) fileira, queira, beira, biela, fivela

**18**

Admita que a terra seja perfeitamente esférica com 6.300 km de raio. Considere os pontos **A** e **B**, do mapa abaixo, situados sobre a Linha do Equador.



A distância entre **A** e **B** é aproximadamente igual a (adote  $\pi = 3,14$ ):

- a) 892 km
- b) 550 km
- c) 1.200 km
- d) 368 km
- e) 254 km

**19**

A prestação da casa própria do Senhor Honório, após um aumento de 20%, passou para R\$ 1.020,00. Qual o valor da prestação antes do aumento?

- a) R\$ 850,00
- b) R\$ 1.000,00
- c) R\$ 925,00
- d) R\$ 816,00
- e) R\$ 916,00

**20**

O número da minha casa é formado por três algarismos que têm soma 15. O algarismo das dezenas supera o algarismo das centenas em três unidades e o algarismo das unidades supera a soma dos outros dois em uma unidade. O número da minha casa é:

- a) 366
- b) 258
- c) 636
- d) 474
- e) 528

**21**

Uma pizzaria apresenta em seu cardápio 10 variedades (tipos) de pizza e oferece, ainda, aos clientes, pizzas mistas, formadas com três dessas variedades. Um cliente decidiu experimentar todas essas possibilidades (pizzas mistas com três variedades) e, para isso resolveu ir à pizzaria todos os domingos para comer uma dessas pizzas mistas. Se começou a executar esse plano em janeiro de 2007, no primeiro domingo do ano; se continuar a ir à pizzaria todos os domingos, sem falta; se não repetir as pizzas já pedidas e se a pizzaria não mudar o cardápio que oferece, ele alcançará seu objetivo:

- a) no 1º semestre de 2009
- b) em dezembro 2008
- c) em agosto 2008
- d) somente em 2010
- e) em dezembro de 2007

**22**

Em uma loja, um cartaz anuncia uma promoção:

<p><b>TELEFONE CELULAR</b>  <b>CELPHONE</b>  Apenas R\$ <b>95<sup>.00</sup></b> à vista ou  <b>20 X R\$ 10<sup>.45</sup></b></p>
--

A pessoa que optar pela compra a prazo, pagará juros (em relação ao preço à vista) correspondentes a:

- a) 75%
- b) 145%
- c) 98%
- d) 100%
- e) 120%

**23**

Uma empresa recebeu duas propostas para locação de copiadora, por contrato de seis meses:

**Empresa A:** Franquia mensal não cumulativa (a sobra de um mês não pode ser usada nos meses seguintes) de 5.000 cópias por R\$ 1.000,00, mais R\$ 0,10 por cópia excedente.

**Empresa B:** Franquia mensal cumulativa (a sobra pode ser usada nos meses seguintes) de 5.000 cópias por R\$ 1.100,00, mais R\$ 0,05 por cópia excedente.

Para facilitar a decisão sobre a contratação, o gestor lançou mão de um levantamento que mandou fazer no ano passado sobre o número de cópias que precisou ao longo de seis meses:

Mês	Nº de Cópias
Fev	2.800
Mar	3.000
Abr	7.000
Mai	6.900
Jun	6.700
Jul	6.200

Admitindo que esses números se repitam pelos próximos seis meses, é correto afirmar:

- Se for possível um contrato de 4 meses, a Empresa B será a mais indicada.
- É mais vantajoso contratar a Empresa B pelos próximos seis meses.
- É mais vantajoso contratar a Empresa A pelos próximos seis meses.
- Se for possível um contrato de 5 meses, a Empresa B será a mais indicada.
- Melhor seria contratar a Empresa A para os dois primeiros meses e a Empresa B para os dois meses seguintes.

**24**

Sabe-se que uma cidade possui 1.300.000 árvores. Uma pesquisa revelou que nenhuma delas possui mais que 1.000.000 de folhas.

Diante de tal situação é correto afirmar que:

- Nessa cidade existem árvores com o mesmo número de folhas.
- Nessa cidade todas as árvores têm 1.000.000 de folhas.
- Não é possível encontrar, entre as árvores dessa cidade, duas com o mesmo número de folhas.
- Duas árvores quaisquer, escolhidas ao acaso, dentre as existentes nessa cidade, têm o mesmo número de folhas.
- Nessa cidade há pelo menos 300.000 árvores totalmente sem folhas.

**25**

Um avião, voando à velocidade de 360 km/h, faz certo percurso em 48 minutos. Se voar a uma velocidade de 240 km/h, quanto tempo levará para fazer o mesmo percurso?

- 32min
- 1h 10min
- 1h 12min
- 1h 44min
- 56min

**Noções de Informática****26**

Os botões apresentados da figura abaixo estão presentes na Barra de Ferramentas do Microsoft Excel 2002.



As funções desses três botões são, respectivamente:

- Inserir seqüência — Configurar largura — Bloquear célula
- Classificação crescente — Mesclar e centralizar — Inserir hiperlink
- Classificação alfabética — Configurar espaçamento — Inserir hiperlink
- Classificação crescente — Justificar — Bloquear célula
- Inserir seqüência — Justificar — Vincular célula

**27**

Analise as afirmações abaixo.

- Apesar de serem softwares, os vírus de computador podem causar danos a alguns hardwares.
- O modem é um software necessário ao acesso à Internet.
- O Microsoft Office XP é um conjunto de Programas atuais que não podem ser executados em microcomputadores com Sistemas Operacionais mais antigos como o Microsoft Windows 98.
- Pen Drive é um dispositivo de armazenamento de dados que utiliza um adaptador USB para conexão direta com o computador.
- A velocidade de acesso à internet depende somente da performance do computador a ser utilizado.

As afirmações **CORRETAS** são:

- II e IV apenas.
- II, IV e V, apenas.
- I, II, III, IV e V.
- I, III e V, apenas.
- I e IV, apenas.



**28**

Considerando conceitos e serviços relacionados à Internet, associe as colunas abaixo:

**Coluna 1**

- ( 1 ) Provedor
- ( 2 ) endereço de e-mail
- ( 3 ) Browser
- ( 4 ) Link
- ( 5 ) Gerenciador de e-mails

**Coluna 2**

- ( ) <http://www.fsadu.org.br/infconcur/>
- ( ) [concursos@fsadu.org.br](mailto:concursos@fsadu.org.br)
- ( ) Elo Internet / Hotmail / Yahoo
- ( ) Microsoft Outlook
- ( ) Mozilla Firefox

Marque a opção que corresponde à seqüência **CORRETA**, de cima para baixo.

- a) 3, 4, 2, 1, 5
- b) 4, 2, 1, 5, 3
- c) 2, 1, 5, 4, 3
- d) 4, 3, 5, 1, 2
- e) 1, 5, 2, 3, 4

**29**

Para maior agilidade na execução de tarefas, torna-se necessário o conhecimento das ferramentas a serem utilizadas. De acordo com as tarefas sugeridas e as opções da "Barra de Menus" do Microsoft Word XP, marque as associações abaixo com V ou F, conforme sejam verdadeiras ou falsas.

- ( ) Formatar o número de página do documento.  
**Inserir > Números de páginas...**
- ( ) Formatar texto com marcadores ou numeração.  
**Formatar > Marcadores e numeração...**
- ( ) Inserir Sombreamento em determinado texto.  
**Inserir > Bordas e Sombreamento...**
- ( ) Formatar a fonte de determinado parágrafo para o estilo "Negrito Itálico".  
**Editar > Fonte...**
- ( ) Editar cabeçalho de documento para realizar alterações.  
**Exibir > Cabeçalho e rodapé**

A seqüência **CORRETA** de marcação, considerada de cima para baixo, está presente na opção:

- a) F, V, F, V, V
- b) V, F, V, F, V
- c) V, V, F, F, V
- d) F, F, V, V, V
- e) F, V, V, F, V

**30**

De que forma pode-se colocar um comentário em uma célula do Microsoft Excel XP?

- a) Clicar com o botão direito do mouse na célula e selecionar Lista de Opções.
- b) Clicar no menu Formatar e selecionar Células.
- c) Clicar no menu Ferramentas e selecionar Comentários.
- d) Clicar com o botão direito do mouse na célula e escolher Inserir Comentário.
- e) Clicar com o botão direito do mouse na célula, selecionar o menu Editar.

**Conhecimentos Específicos****31**

A figura abaixo destaca um recurso técnico a que recorrem as organizações para atuar dentro das concepções da moderna administração, mediante a representação sucinta e ilustrada de um fato ou fenômeno.

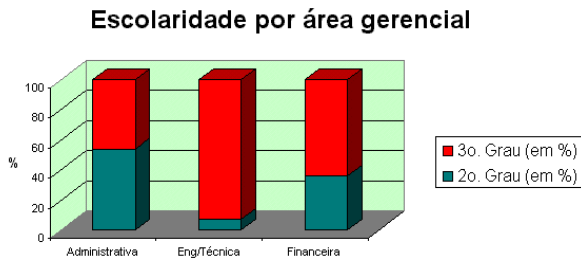
<b>Projeto: construção de um galpão (2007)</b>		
<b>Fases</b>	<b>Previsão</b>	<b>Execução</b>
Escolha do terreno	01/jan - 10/fev	01/jan - 18/jan
Aquisição do terreno	11/fev - 05/mar	18/jan - 19/fev
Preparo do terreno	06/mar - 30/mar	20/fev - 08/abr
Fundações	31/mar - 30/jun	08/abr -
Estrutura	01/jul - 30/set	
Instalações	15/set - 15/out	
Pintura	16/out - 30/nov	
Acabamento e limpeza	20/nov - 10/dez	

Tal figura representa:

- a) Plano Decisório de ação.
- b) Organograma linear.
- c) Organograma temporal de colunas.
- d) Cronograma.
- e) Fluxograma de rotina e processo de construção .

**32**

Com base no gráfico abaixo, que retrata a distribuição dos empregados de uma organização, por grau de escolaridade e área de atuação, analise as opções apresentadas e assinale a correta.



- A relação percentual entre o número de empregados com 3º grau e o número de empregados com apenas o 2º grau não alcança 50%.
- A área administrativa, embora apresente maior número de empregados apenas com o 2º grau, possui menor número de empregados que a área financeira.
- A área de engenharia técnica é a que apresenta o maior número de empregados com o 3º grau.
- A empresa possui mais que 85 empregados que têm apenas o 2º grau.
- A empresa possui, no mínimo, 300 empregados, sendo que não mais que 200 possuem o 3º grau.

**33**

Com base no que estabelece o Regimento Interno da Câmara Municipal de Codó, assinale a opção correta.

- A Câmara dos Vereadores reúne-se em sessões ordinárias que acontecem de 15 de fevereiro a 30 de junho e de 1º de julho a 05 de dezembro de cada ano, e todas as sessões realizadas em outras datas são consideradas extraordinárias.
- Quando convocada extraordinariamente, a Câmara de Vereadores somente deverá deliberar sobre a matéria objeto da convocação.
- A Câmara Municipal poderá funcionar em outro local que não a sua sede, sempre que o seu Presidente, entendendo que haja motivo relevante, assim o determinar.
- Cabe exclusivamente ao Presidente da Câmara tomar o juramento do Prefeito e do Vice-Prefeito e dar-lhes posse em sessão solene e privativa na presença da Mesa Executiva.
- À Mesa Diretora da Câmara caberá, a qualquer tempo, a convocação para as sessões ordinárias e extraordinárias, ouvidos os parlamentares quanto à disposição de tempo e urgência, no caso de convocação extraordinária.

**34**

Representa, na comunicação oficial, a decisão proferida por autoridade administrativa em caso que lhe é submetido à apreciação, podendo ser favorável ou desfavorável à pretensão do solicitante, seja ele servidor público ou não.

- Diligência.
- Despacho.
- Termo de Juntada.
- Interlocutória Administrativa.
- Apensação conclusiva.

**35**

O planejamento pode ser entendido como um método que sistematiza os processos de tomada de decisões e proposição de ações, respondendo às seguintes questões: **O que fazer? Como fazer? Quando fazer? Onde fazer? Com que meios fazer?**

A fase do planejamento *que envolve o conhecimento do problema em todos os seus aspectos, sejam internos ou externos, mediante a reunião de informes de jornais, revistas especializadas, boletins, exames, entrevistas, sondagens e outros meios* é denominada:

- Supervisão.
- Planificação.
- Previsão.
- Implantação.
- Coleta de dados.

**36**

As mudanças ocorridas no campo social, econômico, político e tecnológico trouxeram novas variáveis para o estudo da administração, provocando uma revisão dos conceitos e princípios até então aceitos e adotados. Com isso, novas teorias sobre relações humanas passaram a dominar a administração, incluindo temas como *motivação, liderança, comunicação, organização informal e dinâmica de grupos*.

Com relação ao texto acima apresentado, é **FALSO** afirmar:

- Os trabalhadores são pessoas sociais complexas, com sentimentos, desejos e temores.
- Necessidades fisiológicas, tais como alimentação, sono e atividade física podem influir na sua motivação e na produtividade na organização.
- Adequados estilos de supervisão e de liderança podem afetar positivamente o comportamento de grupos de pessoas dentro de uma organização.
- A liderança é necessária em todos os tipos de organização e é essencial em todas as funções administrativas.
- Os grupos costumam estabelecer normas e padrões de relações e atitudes que refletem seus interesses. No entanto, tais normas não funcionam como mecanismos reguladores do comportamento dos seus membros.

**37**

Uma das opções abaixo completa corretamente a lacuna apresentada no texto. Assinale-a.

O(A) \_\_\_\_\_ é a unidade junto ao órgão ou entidade da administração, cuja função é dar suporte às rotinas de recebimento e expedição dos diversos documentos que chegam ou saem do órgão ou entidade.

- a) Protocolo
- b) Apoio
- c) Recepção
- d) Registro
- e) Almoxarifado

**38**

Apenas uma das opções a seguir contempla corretamente tipos de licitação dispostos na Lei de Licitações e Contratos (Lei nº 8.666/1993). Assinale-a.

- a) Maior lance ou oferta, menor lance ou oferta e melhor técnica.
- b) Convite, tomada de preço e concorrência pública.
- c) Dispensa, inexigibilidade e carta-convite.
- d) Menor preço, melhor técnica e técnica e preço.
- e) Concorrência pública, tomada de preço e leilão.

**39**

A licitação destina-se a garantir a observância do princípio constitucional da isonomia e a selecionar a proposta mais vantajosa para a Administração. Para tanto, o processamento e o julgamento da licitação deverá observar, além dos princípios constitucionais, os seguintes:

- a) vinculação ao instrumento convocatório e julgamento objetivo.
- b) proibidade administrativa e julgamento subjetivo.
- c) vinculação ao instrumento convocatório e adjudicação objetiva.
- d) adjudicação objetiva e homologação vinculada ao instrumento convocatório.
- e) menor preço e proibidade administrativa.

**40**

Com base no que a Constituição Federal dispõe para os Municípios, julgue os itens abaixo em V (verdadeiro) ou F (falso) e assinale a opção correspondente.

- ( ) Os municípios são responsáveis por organizar e prestar, diretamente ou sob regime de concessão ou permissão, os serviços públicos de interesse local, incluído o de transporte coletivo.
- ( ) Os municípios, mediante cooperação técnica e financeira da União e dos Estados, são responsáveis por programas de educação de ensino fundamental e superior.
- ( ) O Poder Executivo Municipal é responsável pela fiscalização do Município, exercida mediante controle externo pela Câmara de Vereadores, na forma da lei.
- ( ) O Município rege-se por lei orgânica, votada em dois turnos e aprovada por dois terços dos membros da Câmara Municipal.
- ( ) Prefeitos, Vice-Prefeitos e Vereadores são eleitos, mediante pleito indireto e sistemático, realizado em cada município para mandato de quatro anos.

- a) V-V-V-V-V
- b) F-V-V-V-V
- c) V-F-V-F-F
- d) V-F-F-V-F
- e) F-V-V-V-F

**41**

A Lei nº 10.520/2002 instituiu, no âmbito da União, Estados, Distrito Federal e Municípios, a modalidade de licitação denominada pregão, voltada para aquisição de bens e serviços comuns. Com base no que dispõe a Lei é verdadeiro afirmar que:

- a) a fase externa do pregão se inicia com a justificativa da autoridade competente quanto à necessidade de contratação, a definição do objeto do certame e preço máximo proposto.
- b) a fase interna do pregão é iniciada com a convocação dos interessados, os quais devem ser convocados por meio de publicação de aviso em diário oficial do respectivo ente federado ou, não existindo, por meios eletrônicos.
- c) aplicam-se subsidiariamente, para a modalidade de pregão, as normas da Lei de Licitações e Contratos (Lei nº 8.666/1993).
- d) ao pregão não há necessidade de exigências de habilitação ou de critérios de aceitação das propostas, pois o que se faz necessário é apenas a composição dos preços e a fixação dos prazos para fornecimento.
- e) o pregão sempre deverá ser realizado por meio da utilização de recursos de tecnologia da informação (pregão eletrônico), devendo os municípios de menor porte firmar convênios com Estados e a União Federal para o apoio logístico.

**42**

Dentre as funções universais da administração está a de *medir e dimensionar os atos, para verificar se estão ocorrendo de acordo com o plano traçado, detectando falhas e erros com a finalidade de corrigi-los.*

Tal função denomina-se:

- a) Coordenação.
- b) Planejamento.
- c) Controle.
- d) Previsão.
- e) Organização.

**43**

Escolha, dentre as opções apresentadas, aquela que completa corretamente a lacuna do texto abaixo.

Diz-se que a(s) \_\_\_\_\_ é(são) o conjunto de Unidades organizacionais que integram a estrutura administrativa de cada um dos Poderes da União, dos Estados e dos Municípios.

- a) Fundações e órgãos
- b) Administração indireta
- c) Fundações e autarquias
- d) Administração direta
- e) Empresas e sociedades de economia mista

**44**

Julgue os itens abaixo em V (verdadeiro) ou F (falso) e assinale a opção correspondente.

- ( ) É garantido ao servidor público civil o direito a livre associação sindical;
- ( ) Mediante lei específica é permitida a contratação de pessoal, por tempo determinado, para atender a necessidade temporária de excepcional interesse público.
- ( ) É vedada a acumulação remunerada de cargos públicos, exceto, apenas, quando houver compatibilidade de horários, a de um cargo de professor com outro de médico.
- ( ) A proibição de acumulação de cargos, empregos e funções não abrange as autarquias, fundações e empresas públicas.
- ( ) A publicidade dos programas, obras, serviços e campanhas dos órgãos públicos deverá ter caráter elucidativo e de orientação social, podendo constar nomes, símbolos ou imagens que caracterizem promoção pessoal dos gestores públicos responsáveis.

- a) V-V-V-V-V
- b) F-F-F-F-F
- c) V-V-F-F-F
- d) V-V-V-V-F
- e) F-F-V-F-V

**45**

Dentre as opções apresentadas, assinale a que constitui o ato pelo qual um processo que, tendo deixado de atender às formalidades indispensáveis ou de cumprir alguma disposição legal, é devolvido ao órgão que assim procedeu, com vistas a corrigir ou sanar as falhas verificadas.

- a) Diligência
- b) Distribuição
- c) Resolução Administrativa
- d) Despacho
- e) Juntada

**46**

Segundo dispõe a Lei de Licitações e Contratos, os **contratos administrativos** devem, necessariamente, conter cláusulas que estabeleçam certos requisitos.

Dentre as opções apresentadas, uma **NÃO** representa cláusula necessária. Assinale-a.

- a) O objeto e seus elementos característicos.
- b) O preço e as condições de pagamento, os critérios, data-base e periodicidade do reajustamento de preços, os critérios de atualização monetária entre a data do adimplemento das obrigações e a do efetivo pagamento.
- c) Os prazos de início de etapas de execução, de conclusão, de entrega, de observação e de recebimento definitivo, conforme o caso.
- d) O regime de execução ou a forma de fornecimento.
- e) O crédito pelo qual correrá a despesa, com a indicação da conta bancária do fornecedor para depósito dos valores a serem pagos.

**47**

Segundo dispõe o artigo 37 da Constituição Federal, a Administração Pública direta e indireta de qualquer dos Poderes da União, dos Estados, do Distrito Federal e dos Municípios obedecerá aos princípios de:

- a) Eficiência, Legalidade, Impessoalidade, Moralidade e Publicidade.
- b) Legalidade, Pessoalidade, Moralidade, Publicidade e Eficácia.
- c) Legitimidade, Legalidade, Probidade Administrativa e Impessoalidade.
- d) Legalidade, Impessoalidade, Economicidade e Probidade Administrativa.
- e) Legalidade, Eficiência, Eficácia, Economicidade e Publicidade.

**48**

Tem em vista retratar graficamente a estrutura organizacional de uma organização, especificando as linhas formais de autoridade, os níveis hierárquicos e a divisão das atividades:

- a) Fluxograma.
- b) Cronograma.
- c) Organograma.
- d) Manual de Organização.
- e) Formulário.

**49**

Dentre as opções apresentadas a seguir, apenas uma é verdadeira. Assinale-a.

- a) A discussão e votação dos projetos de lei de iniciativa do Presidente da República, do Supremo Tribunal Federal e dos Tribunais Superiores sempre terão início no Senado.
- b) A Constituição Federal proíbe que os cidadãos possam tomar a iniciativa de proposição de leis complementares e ordinárias.
- c) Nos casos de relevância e urgência, quando o Presidente da República adota medida provisória e está tem força de lei, não é necessário submetê-la ao Congresso Nacional.
- d) Leis delegadas são aquelas diretamente elaboradas pelos Senadores, Deputados ou Vereadores, pois tratam de atos de competência exclusiva do Poder Legislativo.
- e) É vedada a edição de medida provisória que trate de matéria referente ao plano plurianual, diretrizes orçamentárias e orçamento anual.

**50**

Dentre as opções apresentadas, uma contempla um item não previsto na elaboração do processo legislativo. Assinale-a.

- a) Emendas à Constituição; leis complementares; leis ordinárias; decretos legislativos; e resoluções.
- b) Leis suplementares; leis ordinárias; leis delegadas; decretos executivos e resoluções legislativas.
- c) Emendas à Constituição; leis ordinárias; leis delegadas; medidas provisórias e resoluções.
- d) Emendas à Constituição; leis complementares; leis ordinárias; leis delegadas e medidas provisórias.
- e) Decretos legislativos; leis ordinárias; medidas provisórias; decretos legislativos e resoluções.